




 =6+18


 =4+19


 =10+11


 =3+16


 =25-10


 =16-16


 =20+5


 =2x11


 =22-8


 =20÷1


 =26-8


 =5+11


 =22-5


 =19-6


 =5+6


 =5+4


 =20-8


 =10x1


 =40÷8


 =15-7


 =12÷2

 =19-17

 =7+0

 =3-0

 =20-16

 =1÷1

# LES MATHÉMATIQUES DE MINI

*Aide Mini à trouver la phrase  
qui parle de la fête de Noël.*



16 15 5      15 13 0 24 13 8 5

10 15 21 11 14 2 15 13 8

23 15 24 6 21 11 6 9      19 15

21 24 19 15 24 6 3      9 11 6 10      16 24

0 15 8 15      19 15      13 11 15 16